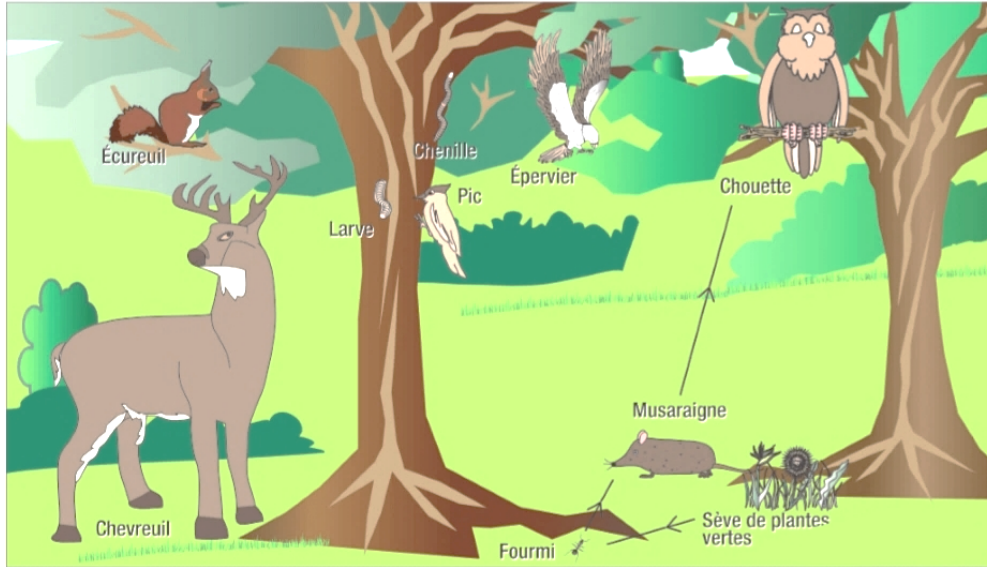


Exercices : Le réseau alimentaire

1. En te référant à l'image et le tableau ci-dessous, **réponds** aux questions suivantes.



Animaux présents	Nourriture consommée
Chevreuil	Feuilles, fruits
Écureuil	Graines, fruits, champignons
Musaraigne	Insectes, vers, araignées, limaces, mille-pattes
Chouette	Campagnols, musaraigne
Épervier	Oiseaux
Pic	Larves d'insectes
Chenille (larve d'insecte)	Feuilles
Larve	Bois
Fourmi	Sève, graines, insectes

a) **Trouve** 2 chaînes alimentaires complètes de 3 maillons :

.....

.....

b) **Trouve** 1 chaîne alimentaire complète de 4 maillons :

.....

.....


c) **Trouve** un animal **xylophage** :

d) **Trouve** un animal **granivore** :

e) **Trouve** un animal **insectivore** :

f) **Trouve** un animal **phytophage** :

2. Complète le texte qui suit :



Dans ce réseau alimentaire,,

et sont des phytophages.

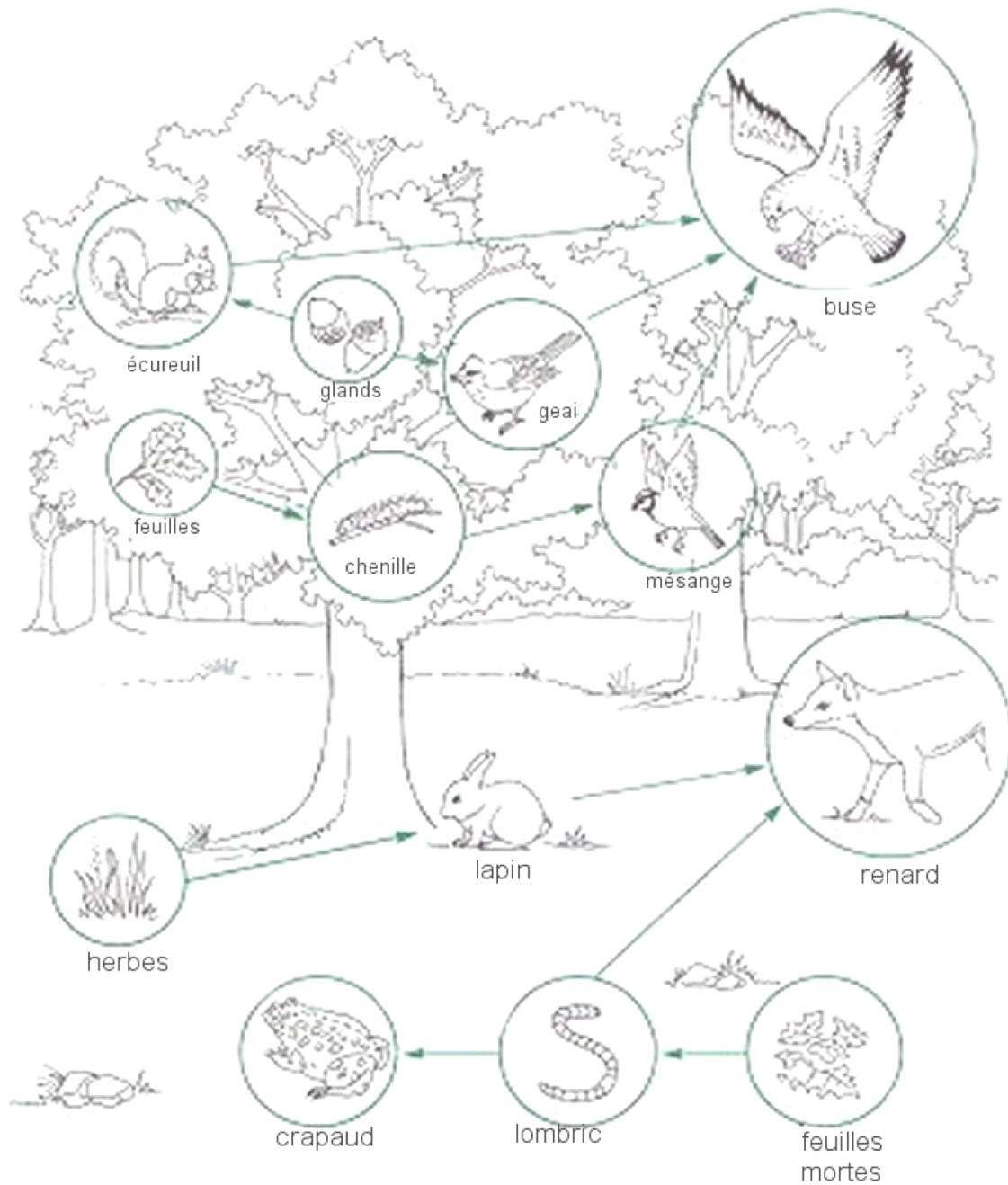
Ceux-ci sont consommés par des

La chenille la mésange et le rapace

..... la mésange.

Le mulot est mangé par, et

3. Voici un réseau alimentaire.



a) Trouve 2 chaînes alimentaires complètes de 3 maillons :

.....

.....

b) Trouve 1 chaîne alimentaire complète de 4 maillons :

.....