


Exercice – Les énergies

A partir des images ci-dessous, **DONNE** la source et la forme d'énergie de chaque situation.



Source :

Forme :




Source :

Forme :



Source :

Forme :



Source :

Forme :



Source :

Forme :




Source :

Forme :



Source :

Forme :



Source :

Forme :



Source :

Forme :