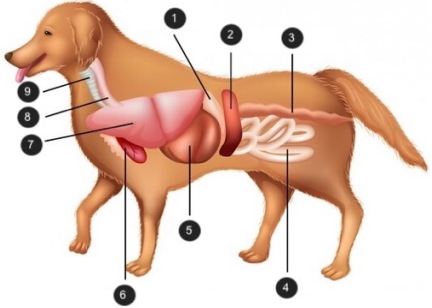
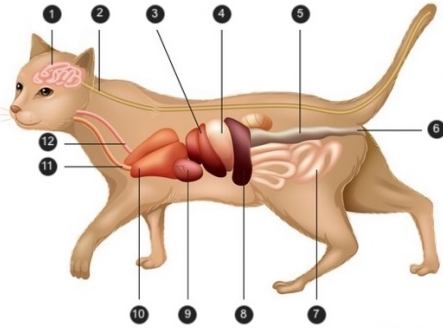
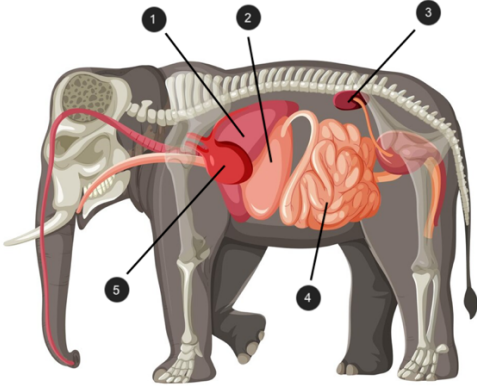
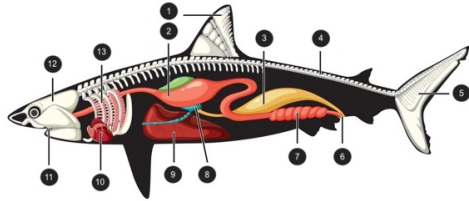
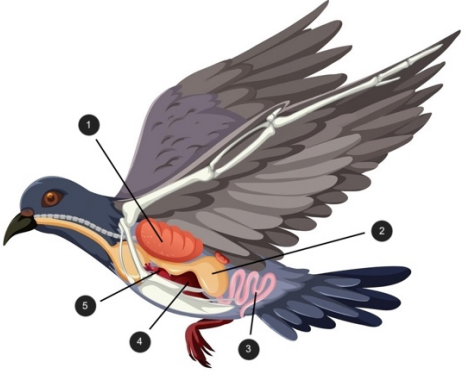
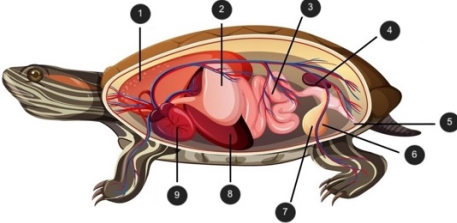
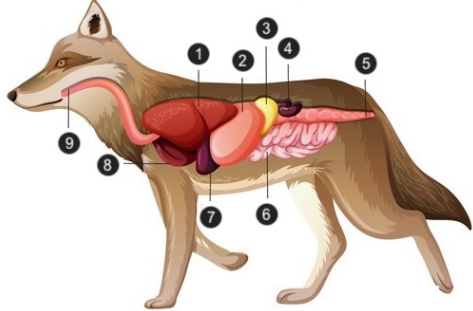
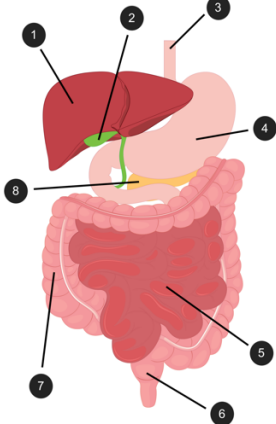


Exercice – Le système digestif

A partir des systèmes des vivants ci-dessous, **RÉPONDS** aux questions suivantes.

LE CHIEN	LE CHAT	L'ÉLÉPHANT	LE REQUIN
			
L'OISEAU	LA TORTUE	LE LOUP	L'HOMME
			

1. **INDIQUE** le numéro de la légende pour chaque organe ci-dessous.

	Le chien	Le chat	L'éléphant	Le requin	L'oiseau	La tortue	La loup	L'Homme
L'estomac	1
L'organe respiratoire	/
L'intestin grêle	3
Le cœur	9
.....	7
Le côlon	3

2. **CITE** tous les organes du système digestif.

.....

.....

3. **CITE** le trajet de l'aliment pour l'Homme.

.....